



调研预测卷(二)

冀

教

版



时间：60 分钟 满分：100 分

题号	一	二	三	四	五	六	七	八	总分
得分									

rèn zhēn tián kòng

一、认真填空。(每空 1 分,共 35 分)

1. 一个两位数,个位上是 4,十位上是 7,这个数是()。

2. 与 99 相邻的两个数是()和()。

3. $45 + 7 = \square$

$71 - 8 = \square$

4. 2 元 = () 角

80 角 = () 元

10 分 = () 角

3 元 5 角 = () 角

6 元 8 角 = () 角

5. 在 75、81、86 这三个数中,和 80 最接近的数是()。

6. 最大的两位数是(),最小的三位数是(),它们相差()。

7. 在下面的括号里,填上合适的人民币单位。



50 ()

8 ()

2 ()

48 ()

8. 小明用()手拿书,用()手拿笔。

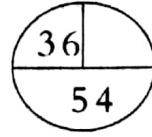
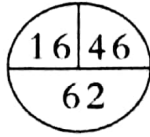
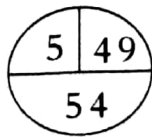
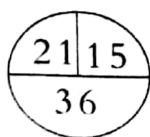
9. 把 48、70、81、99、49、56 按从小到大的顺序排一排。

() < () < () < () < () < ()


10. 找规律,画一画,填一填。

(1) $\square \triangle \bigcirc \square \triangle \bigcirc \square$ _____

(2)




二、准确判断。(对的打“√”,错的打“×”)(每题2分,共10分)

1. 十位上是9的两位数有9个。 ()
2.  左图中有2个长方形。 ()
3. 奶奶比我大一些。 ()
4. 一件上衣48元,全用10元1张的人民币付款,至少要用4张。 ()
5. 早上6时和晚上6时,分针、时针都分别在同一位置。 ()

kàn yì kàn tián yì tián

三、看一看,填一填。(每空1分,共8分)




1. 小飞机的()边是布娃娃,()边是皮球。
2. 羽毛球拍在机器人的()面,在飞机的()面。
3. 在第一层中,机器人的()边是眼镜,()边是轮船。
4. 在第二层中,从左往右数,排在第一个的是(),排在第三个的是()。

huà yì huà lián yì lián

四、画一画,连一连。(1题3分,2题8分,共11分)

1. 在方格纸上画一个长方形、一个正方形和一个三角形。



2. 连一连。



4 时刚过

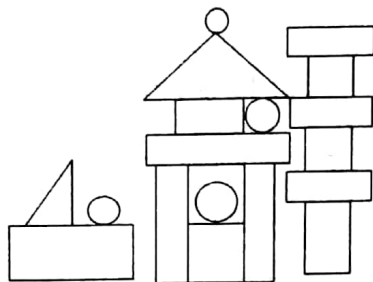
5:00

8 时 30 分

快 6 时了

shǔ yì shǔ

五、数一数。(8 分)



长方形	正方形	圆	三角形
() 个	() 个	() 个	() 个

kāi xīn jì suàn

六、开心计算。(每题 6 分,共 12 分)

1. 直接写得数。

$28 + 30 =$

$16 + 50 =$

$66 - 60 =$

$37 + 2 =$

$73 - 50 =$

$53 - 9 =$

$80 - 3 =$

$23 + 6 =$

$24 + 40 =$

$100 - 50 =$

$54 + 26 =$

$40 - 6 =$

2. 用竖式计算。

$45 + 38 =$

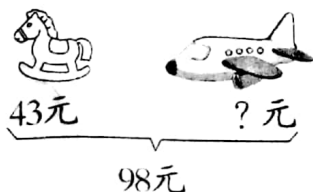
$76 - 29 =$

$52 - 26 =$

kàn tú liè shì jì suàn

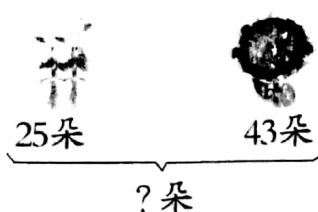
七、看图列式计算。(每题 2 分,共 4 分)

1.



$\square \bigcirc \square = \square (\text{元})$

2.



$\square \bigcirc \square = \square (\text{朵})$



八、走进生活。(1题6分,2题2分,3题4分,共12分)

1. 一年级参加课外活动情况。



(1) 跳绳和打球的一共有多少人?

(2) 捉迷藏的比跳绳的少多少人?

(3) 你还能提出什么数学问题? 并解答。

2. 一个电影院有 100 个座位, 一场电影在网上卖出 53 张票, 在售票点卖出 28 张票, 一共卖出多少张票?

3. 小丽有 5 元、2 元、1 元、5 角、2 角、1 角面值的人民币若干张, 想买一个 9 元 8 角的文具盒, 她可以怎样付钱? (写出两种方法)

- ① _____
- ② _____

